

平成24年度学習状況調査

小学校第5学年 社会 調査票

() 組 () 番 氏名 ()

1 あきこさんたちは、くらしをささえる水について調べることにしました。次の(1)から(3)の問題に答えましょう。

(1) 資料1の中で□でかこまれた、きれいな水をつくるしるせつの名前を、□の中に書きましょう。

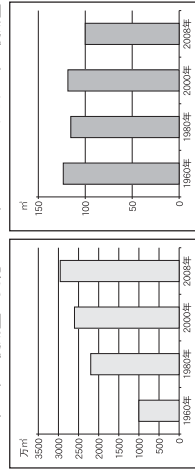
調査時には、浄水場のイラストが入る

資料1 水がきれいになるまで

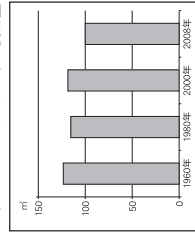
ア 交番、けいさつしょ、消ぼうしょ
 イ けいさつしょ
 ウ 通信指令室
 エ 事故現場にもっとも近い交番

(2) あきこさんたちは、A市で使われる水の量について話し合っています。それぞれ、どの資料をもとにして説明していますか。資料2から資料4までの中から、あてはまる資料をそれぞれ選んで、それらの資料の番号を□の中に書きましょう。

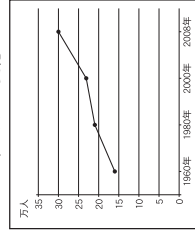
資料2
A市の水の使用量の変化



資料3
A市の1人1日あたりの水の使用量



資料4
A市の人口の変化



あきこ：「人口がふえると、水の使用量もふえるんだね。」
 ひろし：「でも、みんなが節水を心がけるようになってるよ。」

あきこ □ と ひろし □

(3) 節水のために、わたしたちはどんなことができるでしょうか。資料5を参考にして、自分の考えを1つ書きましょう。

資料5 水を大切にするために

小社-1

2

あきこさんたちは、事故や事件からくらしを守る工夫について調べました。次の(1)から(3)の問題に答えましょう。

(1) 110番に電話をかけると、どこにつながりますか。資料1を見て、次のアからエまでの中から1つ選んで、その記号を□の中に書きましょう。

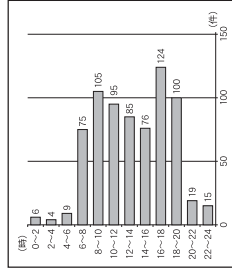
資料1 110番通ぼうのしくみ

調査時には、イラストが入る

ア 交番、けいさつしょ、消ぼうしょ
 イ けいさつしょ
 ウ 通信指令室
 エ 事故現場にもっとも近い交番

(2) 資料2を見ると、B市で交通事故がもっとも多い時間帯は16時から18時です。なぜ、この時間帯に交通事故が多いかと思いませんか。そのわけを自分で考えて、□の中に書きましょう。

資料2 B市の時間帯別の交通事故の件数(年間)



(3) 下のアからエまでの中で、交通事故をふせぐためにあるものはどれでしょう。あてはまるものをすべて選んで、それらの記号を□の中に書きましょう。

ア □ イ □ ウ □ エ □

調査時には、ア カーブミラー、イ 防火水そうの表示、ウ 救急車、エ 歩道橋の写真が入る

小社-2

