

平成24年度学習状況調査

中学校第2学年 社会 調査票

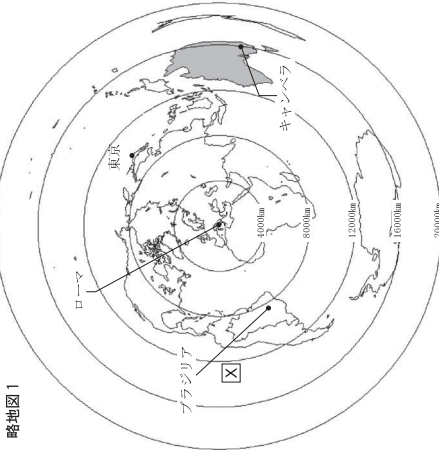
() 組 () 番 氏名 ()

1 略地図1, 2を見て、次の(1), (2)に答えなさい。

(1) 略地図1は、ローマ(イタリア)からの距離と方位が正しくかかれています。また、ブラジル・イタリア・日本・オーストラリアの首都が●で、オーストラリアの国土は、○で示されています。次の①, ②に答えなさい。

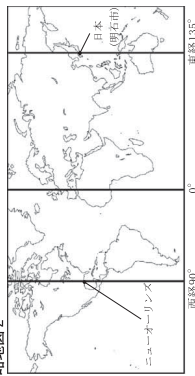
① の海洋名を書きなさい。

略地図1



② この4か国について、略地図1から読み取れることとして適切なものを、ア～エから1つ選んで、その記号を書きなさい。
 ア キャンベラからの距離が最も近い首都は、ブラジルである。
 イ 東京から見てブラジルは、南西に位置している。
 ウ オーストラリアは、アフリカ大陸よりも面積が大きい。
 エ ローマまでの距離が最も近い首都は、キャンベラである。

略地図2




(2) 略地図2には、日本とニューオーリンズの位置が示されています。日本(標準時の基準となる経線は東経135°)が12月25日午後1時のときの、ニューオーリンズ(標準時の基準となる経度は西経90°)の日時を書きなさい。

中社一1

2

次の資料1, 2を見て、(1), (2)に答えなさい。

資料1



(1) 資料1のA, Bは、弘前市と八戸市の雨温図を示しています。弘前市の雨温図をA, Bから1つ選んで、その記号を書きなさい。

(2) 青森県の気候と農業について、次の①, ②に答えなさい。

① 次の文のX, Yに当てはまる語句の組み合わせとして適切なものを、ア～エから1つ選んで、その記号を書きなさい。

夏の県南地方では、(X)で発達する高気圧のため、(Y)とよばれる北東の風が吹く。

- ア (X) オホーツク海 Y 偏西風
- イ (X) オホーツク海 Y ヤマセ
- ウ (X) 日本海 Y 偏西風
- エ (X) 日本海 Y ヤマセ

資料2



② 青森県の農業の特色として適切なものを、ア～エから1つ選んで、その記号を書きなさい。

- ア 野菜づくりがさかんで、ダイコンは、取極量日本一(2010年度)である。
- イ 果樹栽培がさかんで、リンゴは、取極量日本一(2010年度)である。
- ウ 稲作がさかんで、長年にわたり品種改良と栽培技術の研究を重ねられてきている。
- エ 夏が短く、冬が長い冷涼な気候に合った多様な農業が営まれている。

3 次の資料1, 2を見て、(1), (2)に答えなさい。

資料1



(1) 資料1の各県は、同じ地方に属しています。その地方名を書きなさい。

(2) 資料2のおもな特徴に適合する県を、資料1のア～エから1つ選んで、その記号と県名を書きなさい。

資料2

- ・江戸時代以前の旧国名は加賀国と能登国である。
- ・江戸時代には、100万石以上の産地をもつ藩があった。
- ・県内には、輪島塗や九谷焼などの伝統的工芸品がある。
- ・県名と県庁所在地名が異なる。

中社一2

4 次の地形図を見て、(1)、(2)に答えなさい。

調査時には、ここに地図が入る

- (1) 地形図から読み取れる内容として適切でないものを、ア～エから1つ選んで、その記号を書きなさい。
- ア 「大東川」は、南東から北西へ流れている。
 - イ 「青ヶ山」から見て、「丸亀城跡」は南西に位置している。
 - ウ 「宇多津駅」の近くには□□という地図記号が見られる。この地図記号は図書館を表している。
 - エ 「青ノ山」は「角山」よりも、約70m高い。
- (2) 地形図で、「丸亀城跡」と「宇多津駅」との間の距離は、地図上で約10cmですが、実際の距離に直すと約何mか、書きなさい。

中社—3

5 次の資料1、2を見て、(1)～(3)に答えなさい。

資料1

調査時には、ここに資料が入る

- (1) 資料1のA国～D国の国名の組み合わせとして正しいものを、ア～エから1つ選んで、その記号を書きなさい。

	A国	B国	C国	D国
ア	中華人民共和国	インド	アメリカ合衆国	ブラジル
イ	中華人民共和国	ブラジル	インド	アメリカ合衆国
ウ	アメリカ合衆国	ブラジル	中華人民共和国	インド
エ	インド	アメリカ合衆国	ブラジル	中華人民共和国

- (2) 資料1から読み取れる内容として適切でないものを、ア～エから1つ選んで、その記号を書きなさい。
- ア 人口が最も多い国は、首都の人口も最も多い。
 - イ A国の鉄鉱石産出量は、B国とC国の合計より多い。
 - ウ レアアースを生産している国は、2か国だけである。
 - エ A国とD国を比べると、D国の方が1人あたりの穀物生産量が多い。
- (3) 資料2の円グラフは、2000年と2010年のアジア州諸国の携帯電話の普及率を示している。資料2から読み取れる内容として適切でないものを、ア～エから1つ選んで、その記号を書きなさい。

資料2

調査時には、ここに資料が入る

- ア 2010年は中華人民共和国とインドを合計すると、世界に占める生産割合が60%以上である。
- イ 韓国の2010年の生産台数は、2000年より減少した。
- ウ 中華人民共和国の2010年の生産台数は、6億台以上である。
- エ 10年間でアジア州諸国全体の生産割合は、世界に占める生産割合の80%を越えるようになった。

中社—4

6 次の年表を見て、(1)～(3)に答えなさい。

西暦	600	700	800	900	1000	1100	1200	1300	1400	1500	1600			
世紀	6	7	8	9	10	11	12	13	14	15	16	17		
I	古代													
II	古墳 飛鳥		奈良			B			C		D 鎌倉		E 戦国	

(1) 年表中のIは、「社会のしくみの特徴による時代区分」、IIは「そのときどきどきの政権がおもにどこにあったか、という視点による時代区分」を示しています。次の①、②に答えなさい。

- ① 年表中Aに適する名称を書きなさい。
 ② 年表中Aのころの社会の特色として適切なものを、ア～エから1つ選んで、その記号を書きなさい。
 ア 都で天皇や貴族中心の政治が行われた。
 イ 武士が政治の中心となったが、勢力争いによる戦乱も多かった。
 ウ 一般の成人男子には、布や特産物を都まで運んで納める調、庸などの税の義務が課せられた。
 エ 農業や商工業の生産力は高まらず、都市も発達しなかった。

(2) 年表中Bの時代の出来事について述べたア～ウを、年代の古い順に並べてその記号を書きなさい。

- ア 中国との貿易によって経済力を高めた平清盛が政治の実権を握る。
 イ 桓武天皇が都を京都に移し、坂上田村麻呂を征夷大将軍とし、東北地方に大軍を送る。
 ウ 藤原道長・頼通親子が摂政や関白の地位につき、政治の実権を握る。

(3) 下の作品の中で年表中B、C、D、Eの時代の作品でないものを、ア～エから1つ選んで、その記号を書きなさい。

ア	イ	ウ	エ
調査時には、ここに「弘隆寺の弥勒菩薩像」の写真が入る	調査時には、ここに「秋冬山水図」の写真が入る	調査時には、ここに「唐獅子図屏風」の写真が入る	調査時には、ここに「金剛力士像」の写真が入る

中社—5

7 右の資料を見て、(1)、(2)に答えなさい。

- (1) 資料のような形の古墳を何というか、書きなさい。
 (2) 古墳時代につくられたものとして適切でないものを、ア～エから1つ選んで、その記号を書きなさい。

ア	イ	ウ	エ
調査時には、ここに「はにわ」の写真が入る	調査時には、ここに「鉄製のかぶと」の写真が入る	調査時には、ここに「かんむり」の写真が入る	調査時には、ここに「和同開珎」の写真が入る

8 右の表は、ある学政で「古代国家の歩み」の学習を行ったときに、A～C班が作成するレポートのテーマを示したものです。次の(1)～(3)に答えなさい。

- (1) 下の資料1は、A班のレポートに盛り込む、聖徳太子が定めた十七条の憲法の一部です。この憲法を定めた目的として適切なものを、ア～エから1つ選んで、その記号を書きなさい。

班	テーマ
A	政治を調べよう
B	農民の生活を知らう
C	貴族の生活を探ろう

資料1 一に曰く、和をもつて皇しとなし、さからう(争う)ことなきを憲と(第一に)せよ。三に曰く、あつく三宝を敬え。三宝とは仏・法(仏教の教え)・僧なり。

三に曰く、詔(天皇の命令)をうけたまわりては必ずつつしめ(守りなさい)。

- ア 天皇の心構えを示した。
 イ 農民の心構えを示した。
 ウ 役人の心構えを示した。
 エ 裁判の基準を示した。
 (2) B班が農民の生活についてまとめた。その内容として適切なものを、次のア～エから1つ選んで、その記号を書きなさい。
 ア 山城(京都府)では、農民たちが、守護大名を追いはいはらう山城国一揆をおこした。
 イ 有力な農民の指導のもとで、村ごとに惣とよばれる自治的な組織がつくられた。
 ウ 国統を強めた農民は、土倉や酒屋などをおそそう土一揆をおこすようになった。
 エ 薬田永年私財法が出され、貴族・寺院や郡司などの指示によって、農民たちは、さかんに開墾を行った。

(3) C班は、下の資料2のように、国風文化についてまとめた。

資料2
 このころ、漢字を變形して、日本語の発音をあらわせるよ
 うに工夫した。仮名文字を使つた文学も生まれました。
 「源氏物語」もその一つです。
 また、右の絵は日本の自然や風俗をえがいたもので、大和
 絵とよばれ、日本画のもととなりました。

資料2を参考にし、国風文化の特色について、下に示した2つの語句を必ず用いて、簡単に説明しなさい。

【 日本 風土や生活 】

中社—6

9 次の鎌倉時代の歴史新聞の下書きを見て、(1)～(3)に答えなさい。

- (1) Aの記事の内容として、鎌倉幕府を開いた人物が述べたものについて、適切でないものを、ア～エから1つ選んで、その記号を書きなさい。
- ア 私は、朝廷から^{北条}東大將領に任命された。
 イ 私は、国ごとに守護を、荘園や公領ごとに地頭を置いた。
 ウ 私は、年号を建武と改め新しい政治をめざした。
 エ 私の弟は、^{頼朝}平氏をほろぼした。

インタビュー	鎌倉幕府が成立する
A	<p>新しい人々の心と、 多(おほ)くの人々の心とを らく(おほ)くの人々の心とを らく(おほ)くの人々の心とを</p> <p>新しい人々の心と、 多(おほ)くの人々の心とを らく(おほ)くの人々の心とを</p>
	<p>代表的な建築</p> <p>B</p> <p>ここに(2)の建築物の写真正はる</p>

(2) Bの欄に「代表的な建築物」の写真を入りたいと思います。適切な建築物を、ア～ウから1つ選んで、その記号を書きなさい。

ア

調査時には、ここに「東大寺南大門」の写真正が入る

ウ

調査時には、ここに「正倉院」の写真正が入る

(3) 鎌倉時代に新しく広まった仏教の特色を表すCの記事の内容として、に当てはまる適切なものを、ア～ウから1つ選んで、その記号を書きなさい。

- ア 簡便でわかりやすく、実行しやすかった
 イ 足利義政が、信仰を奨励した
 ウ 宣教師が、各地に教会を建てた

中社一7

10 下の年表と資料1～3を見て、(1)～(5)に答えなさい。

年表	主な出来事
9世紀	遣(ア)使が停止される
12日	日(Ｂ)貿易が行われる
13	(Ｃ)寇がおこる
14	倭寇が高麗や(Ｄ)の沿岸をおそう
15	勘合貿易が行われる
16	鉄砲が伝来し、南蛮貿易が行われる

資料1

調査時には、ここに「織田信長」の写真正が入る

資料2

^{刀狩令} (部分要約)
 諸国の百姓が刀やわきざし、弓、やり、鉄砲、そのほかの武器などをもつことは、かたく禁止する。不必要な武器をたくわえ、年貢その他の税をなかなか納入せず、ついにには…

資料3

^{御成敗式目} (部分要約)
 一 諸国の守護の職務は、頼朝公の時代に定められたように、京都の御所の警護と、謀反や殺人などの犯罪人の取りしまりに限る。

(1) 年表中のA～Dに適する中国の王朝の組み合わせとして適切なものを、ア～エから1つ選んで、その記号を書きなさい。

	A	B	C	D
ア	隋	前	元	宋
イ	唐	宋	元	明
ウ	隋	元	明	宋
エ	唐	宋	隋	明

(2) 資料1の人物が行った内容として適切なものを、ア～エから1つ選んで、その記号を書きなさい。
 ア 朝鮮、ルソン(フィリピン)、高山国(台湾)などに手紙を送り、服属を求めた。
 イ 佐渡金山や生野銀山などの開発を行い、統一的な金貨や銀貨を発行した。
 ウ 中興の武田氏を長篠の戦いで破り、安土城を築いた。
 エ 朝廷から關白に任命され、大阪に巨大な城を築いて本拠地とした。

(3) 資料2は、「刀狩令」の一部です。これを出した人物名を書きなさい。

(4) 資料3が出された目的として適切なものを、ア～エから1つ選んで、その記号を書きなさい。

- ア 商工業の発展のため
 イ 各国が独自に武士や農民の行動をとりしめるため
 ウ 農民がせいたくをしないようにするため
 エ 裁判の基準を御家人に示すため

(5) 年表のタイトルとして適切なものを、ア～エから1つ選んで、その記号を書きなさい。
 ア 律令国家が成立するまでのできごと
 イ 大和政権が生まれるまでの歩み
 ウ 日本と外国との関係
 エ 大化の改新への道のり

中社一8